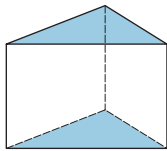
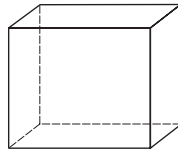


VII.1 Figury przestrzenne – bryły

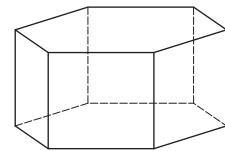
- 1 Uzupełnij podpisy brył słowami: *ostrosłup* lub *graniastosłup*. Pomaluj podstawy na niebiesko (w graniastosłupie dwie, w ostrosłupie jedną).



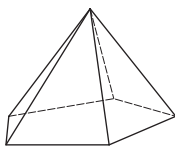
o podstawie
trójkątnej



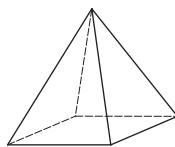
o podstawie
czworokątnej



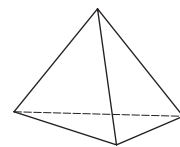
o podstawie
sześciokątnej



o podstawie
pięciokątnej



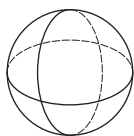
o podstawie
czworokątnej

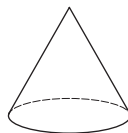


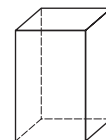
o podstawie
trójkątnej

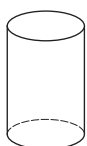
- 2 Przy każdej bryle zapisz jej nazwę odszukaną w ramce. Do jednej bryły pasują dwie nazwy – zapisz obie.

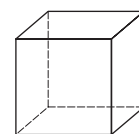
prostopadłościan stożek sześcian kula walec



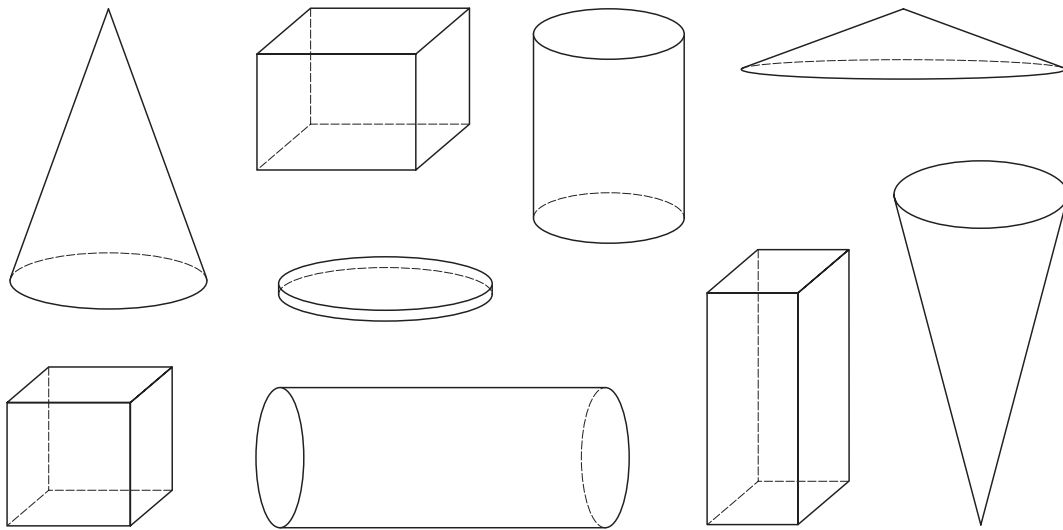




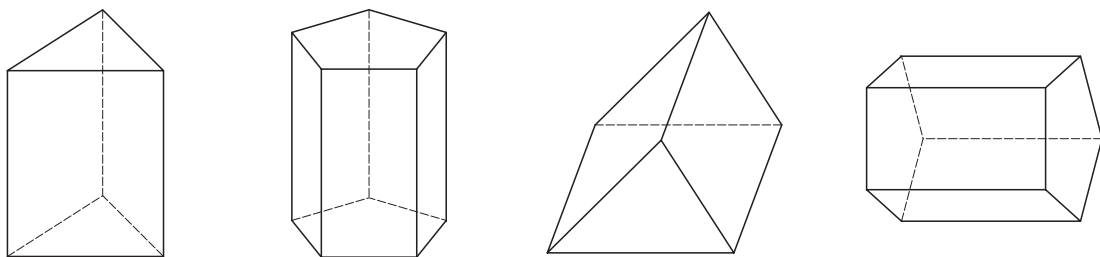




- 3** Pomaluj walce na zielono, stożki na żółto, sześciiany na niebiesko, a inne prostopadłościany na czerwono.

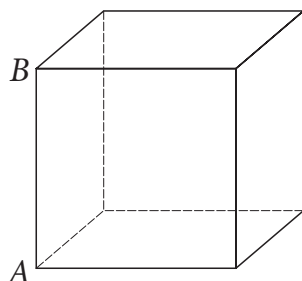


- 4** W każdym graniastosłupie pomaluj obie podstawy. Zaznacz na zielono jedną krawędź prostopadłą do podstawy. Ta krawędź to wysokość bryły. Podpisz ją literą h .

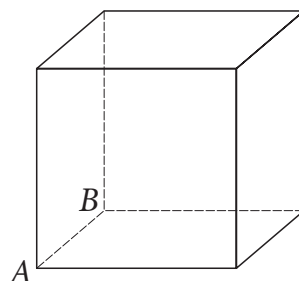


- 5** Zaznacz krawędzie równoległe do krawędzi AB .

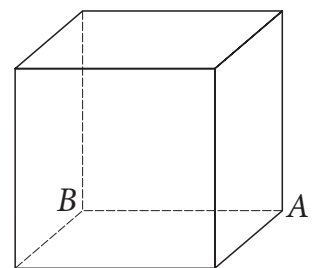
a)



b)

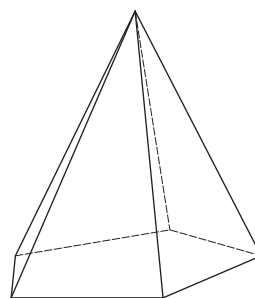
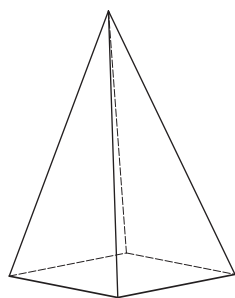
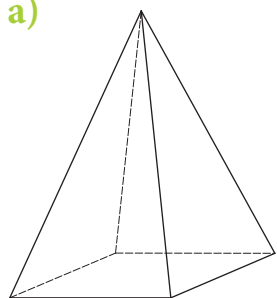


c)

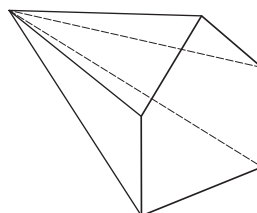
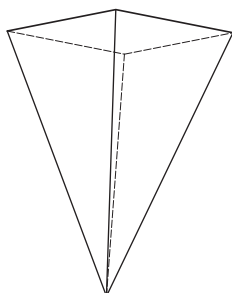
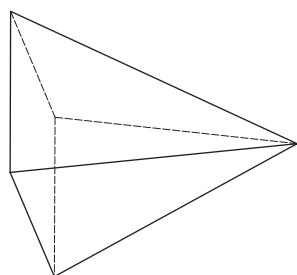


6 Pomaluj podstawę każdego ostrosłupa.

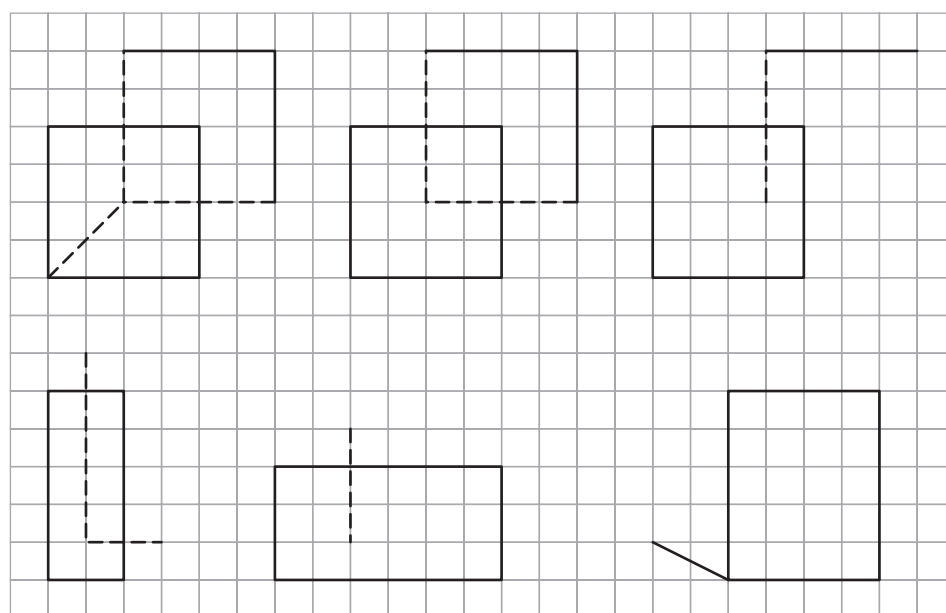
a)



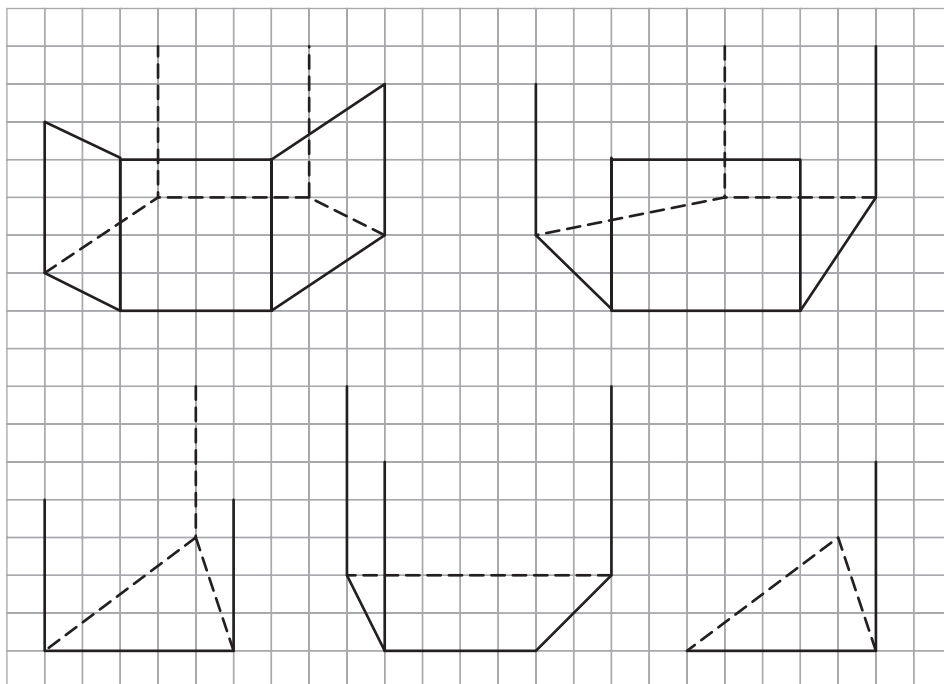
b)



7 Dokończ rysunki prostopadłościów.



8 Dokończ rysunki graniastosłupów.



9 Dokończ rysunki ostrosłupów.

